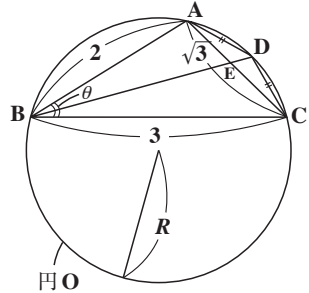


円 O に内接する四角形 $ABCD$ において、
 $AB = 2$, $BC = 3$, $CA = \sqrt{3}$, $AD = CD$
 とする。また、 AC と BD の交点を E 、
 $\angle ABC = \theta$ とおく。



- (1) $\cos\theta$ と $\sin\theta$, および円 O の外接円の半径 R を求めよ。
 - (2) AE , AD , BD の長さを求めよ。
 - (3) 四角形 $ABCD$ の面積 S を求めよ。
- (京都産業大*)

ヒント! (1) では $\triangle ABC$ に余弦定理を用いて $\cos\theta$ を求め、さらに $\sin\theta$ を求めて、正弦定理から半径 R を求めよう。(2) 頂角の 2 等分線の公式や、余弦定理、トレミーの定理を利用しよう。(3) は、2 つの三角形 $\triangle ABC$ と $\triangle ACD$ の面積の和として計算すればいい。

解答&解説

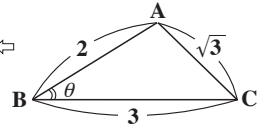
(1) $\triangle ABC$ に余弦定理を用いると、

$$\cos\theta = \frac{2^2 + 3^2 - (\sqrt{3})^2}{2 \cdot 2 \cdot 3} = \frac{4 + 9 - 3}{12} = \frac{10}{12} = \frac{5}{6} \dots \textcircled{1} \dots (\text{答})$$
 $\sin^2\theta + \cos^2\theta = 1$ かつ $\sin\theta > 0$ より、 $\textcircled{1}$ から、

$$\sin\theta = \sqrt{1 - \cos^2\theta} = \sqrt{1 - \left(\frac{5}{6}\right)^2} = \sqrt{\frac{36 - 25}{36}} = \frac{\sqrt{11}}{6} \dots \textcircled{2} \dots (\text{答})$$
 $\triangle ABC$ に正弦定理を用いると、外接円の半径 R は、

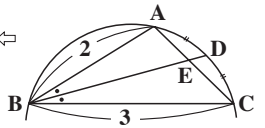
$$\frac{\sqrt{3}}{\sin\theta} = 2R \text{ より、 } R = \frac{\sqrt{3}}{2 \cdot \frac{\sqrt{11}}{6}} = \frac{3\sqrt{3}}{\sqrt{11}} = \frac{3\sqrt{33}}{11} \dots \dots (\text{答})$$

ココがポイント



$\Leftrightarrow R = \frac{\sqrt{3}}{\frac{\sqrt{11}}{3}} = \frac{3\sqrt{3}}{\sqrt{11}}$

(2) $AD = CD$ より $\widehat{AD} = \widehat{CD}$ よって、同じ長さの弧に対する円周角は等しいので、 $\angle ABE = \angle CBE = \frac{1}{2}\theta$ となる。よって、 $\triangle ABC$ について、 BE は頂角 $\angle ABC$ の 2 等分線なので、頂角の 2 等分線の定理より、



AE : EC = AB : BC = 2 : 3 となる。

$$\therefore AE = \frac{2}{5}AC = \frac{2}{5} \cdot \sqrt{3} = \frac{2\sqrt{3}}{5} \dots\dots\dots(\text{答})$$

・ $\square ABCD$ は円に内接する四角形なので、
 その内対角の和は 180° である。よって、
 $\angle ABC + \angle ADC = 180^\circ$ より、 $\angle ADC = 180^\circ - \theta$
 $\therefore \cos \angle ADC = \cos(180^\circ - \theta) = -\cos \theta = -\frac{5}{6}$
 ……③ (①より)

ここで、 $\triangle ACD$ について、 $AD = CD = x$ と
 おいて、余弦定理を用いると、

$$\cos \angle ADC = \frac{x^2 + x^2 - (\sqrt{3})^2}{2 \cdot x \cdot x} \text{ より、} -\frac{5}{6} = \frac{2x^2 - 3}{2x^2}$$

$$-\frac{5}{6} \text{ (③より)}$$

$$-5x^2 = 3(2x^2 - 3), -5x^2 = 6x^2 - 9, 11x^2 = 9$$

$$x^2 = \frac{9}{11} \dots\dots\dots④$$

$$\therefore AD = x = \sqrt{\frac{9}{11}} = \frac{3}{\sqrt{11}} = \frac{3\sqrt{11}}{11} \dots\dots\dots④' \text{ (答)}$$

・ $\square ABCD$ にトレミーの定理を用いると、
 $BD \times \sqrt{3} = 3 \times x + 2 \times x \quad \therefore BD = \frac{5}{\sqrt{3}} \cdot x$
 これに④' を代入して、
 $BD = \frac{5}{\sqrt{3}} \times \frac{3\sqrt{11}}{11} = \frac{5\sqrt{3} \times \sqrt{11}}{11} = \frac{5\sqrt{33}}{11}$
 ……(答)

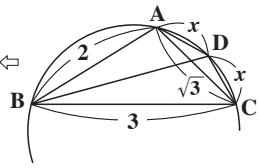
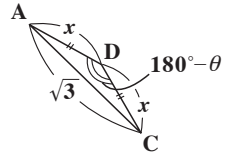
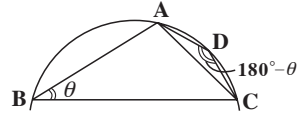
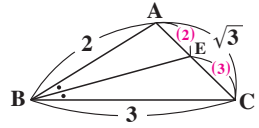
(3) $\square ABCD$ の面積 S は、

$$S = \triangle ABC + \triangle ACD$$

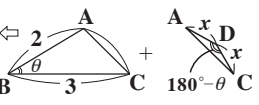
$$= \frac{1}{2} \times 2 \times 3 \times \sin \theta + \frac{1}{2} \times x \times x \times \sin(180^\circ - \theta)$$

$$= 3 \times \frac{\sqrt{11}}{6} + \frac{1}{2} \times \frac{9}{11} \times \frac{\sqrt{11}}{6} = \frac{\sqrt{11}}{2} + \frac{3\sqrt{11}}{44}$$

$$= \frac{22+3}{44} \cdot \sqrt{11} = \frac{25\sqrt{11}}{44} \text{ である。} \dots\dots\dots(\text{答})$$



トレミーの定理：
 $BD \times \sqrt{3} = x \times 3 + x \times 2$



$$\begin{cases} \cos(180^\circ - \theta) = -\cos \theta \\ \sin(180^\circ - \theta) = \sin \theta \end{cases}$$